

Задания для участников 6-х классов

Инструкция по выполнению работ

Время на выполнение работы – 45 минут.

Максимальное количество баллов – 100.

Уважаемый участник!

При выполнении работы внимательно читайте текст заданий. Содержание ответа вписывайте в отведённые поля, записи ведите чётко и разборчиво.

За каждый правильный ответ Вы можете получить определённое членами жюри количество баллов, но не выше указанной максимальной оценки. Сумма набранных баллов за все решённые вопросы – итог Вашей работы.

Задания считаются выполненными, если Вы вовремя сдали их членам жюри.

Желаем успеха!

Шифр Ш29-6-3

Задание 1. Верны ли следующие утверждения («да» – «нет»)? Ответы внесите в таблицу.

- 1.1. Фараоны в Древнем Египте считались сыновьями луны.
- 1.2. Самым могущественным царем Вавилонского царства был Хаммурапи. 9 баллов
- 1.3. Первыми стали применять железо греки.
- 1.4. Гробница императора Цинь Шихуанди находится на территории современного Египта.
- 1.5. В рамках древнегреческой колонизации Причерноморья были построены города на территории современной Российской Федерации.
- 1.6. Наставником и воспитателем Александра Македонского был философ Диоген.
- 1.7. Зарождение древнегреческого театра связывают с празднествами в честь бога Диониса.
- 1.8. Автором «Илиады» является Гиппократ.
- 1.9. На время Олимпийских игр в Древней Греции были запрещены войны.
- 1.10. Фраза «жребий брошен» принадлежит Юлию Цезарю и относится к его походу на Рим.

Ответ:	+	+	+	+	+	+	+	+	+	-
	1.1	1.2	1.3	1.4	1.5	1.6	1.7	1.8	1.9	1.10
	нет	да	нет	нет	да	нет	да	нет	да	нет

Критерии оценивания: за каждый верный ответ - 2 балла, всего – 10 баллов.

Задание 2. Перед Вами фрагменты шести полотен художника Степана Бакаловича, часто вдохновлявшегося сюжетами из древности. Соотнесите фрагмент каждой картины с утверждением об этой картине. Ответы внесите в таблицу.



1



2




3



4



5



6

А. На картине изображен писец фараона.

Б. На картине изображен поэт Катулл.

В. На картине изображено одно из Семи чудес света.

Г. На картине изображена достопримечательность, которая носит имя одного из римских императоров.

Д. На картине показана приёмная знаменитого римского благотворителя, чьё имя стало нарицательным.

Е. На картине показано исполнение религиозного ритуала.

Ответ:

	А	Б	В	Г	Д	Е
	3	2	2	4	5	6

12 баллов

Критерии оценивания: за каждый верный ответ - 2 балла, всего - 12 баллов.

8 баллов

Задание 3. Происхождение многих из современных технологий можно проследить в древнем Китае. Прочитайте фрагменты текста. О каких изобретениях древних китайцев идет речь? Заполните пропуски. Ответ внесите в таблицу.

«3.1 _____ является одним из наиболее широко используемых и необходимых материалов, была изобретена впервые в древнем Китае в период правления династии Хань. До второго века до нашей эры китайцы пользовались очень дорогими и не всегда качественными средствами для письма, такими как полосы бамбука, свитки из шелка, закаленные глиняные таблички, деревянные таблички и т.д. Первый прототип 3.2 _____ как считается, появился также во времена династии Хань, когда китайцы стали использовать магнитный железняк, ориентированный на север-юг. Правда, использовался он не для навигации, а для гадания. Еще в середине 1 тысячелетия до н. э. китайцы использовали для фейерверков удивительное изобретение – 3.3 _____. Китайские художники открыли секрет 3.4 _____, которым покрывали зонтики, деревянные изделия и даже обувь, делая их водонепроницаемыми. Во многие страны отправлялись караваны, груженые гладкой тончайшей тканью, прославившей Древний Китай – 3.5 _____».

Ответ:

3.1	Бумага Полосы бамбука Китайский шелк Бумага	+
3.2	Бумага железо магнитный железняк Китайский	+
3.3	Порох	+
3.4	не ткажи	-
3.5	шелк	+

Критерии оценивания: за каждый верный ответ - 2 балла, всего – 10 баллов.

Задание 4. Много крылатых выражений пришло к нам из истории и мифологии народов Древнего мира. Соотнесите выражение и название страны или региона, которые связаны с появлением этого выражения. Ответ внесите в таблицу.

4.1.Зарыть талант в землю	А. Древнее Двуречье
4.2.Эврика!	Б. Древний Египет
4.3.Смешение языков	В. Древняя Палестина
4.4.Ухо мальчика – на его спине!	Г. Древний Китай
4.5.Правитель должен быть правителем, отец – отцом, сын – сыном.	Д. Древняя Греция

Ответ:

+	+	-	-	-
4.1	4.2	4.3	4.4	4.5
б	г	в	а	д

4 балла

Критерии оценивания: за каждый верный ответ - 2 балла, всего – 10 баллов.

Задание 5. Перед Вами текст по истории раннего Средневековья. В нём пропущены некоторые слова и даты. Заполните каждый пропуск, выбрав один из трёх вариантов.

В (1. 476) году вождь варваров сверг последнего императора Западной Римской империи (2. Ромул) Августа. С этой даты началась история Средних веков. На бывшей территории Западной Римской империи стали образовываться варварские королевства, одним из которых было королевство франков. Его основателем был (3. Клодвиг) из династии (4. Меровинги). В период его правления были записаны старинные судебные обычаи франков, создан свод законов – (5. Салическая) Правда. Однако в VII в. королевская власть ослабела, и фактическими правителями государства стали королевские управляющие – майордомы. В 732 г. майордом Карл (6. Майнхарт) одержал победу над арабами в битве (7.

~~некая иудейская легенда~~

1. 476, 486, 496
2. Августа, Рема, Ромула
3. Теодорих, Хильдеберт, Хлодвиг
4. Капетингов, Каролингов, Меровингов
5. Вестготская, Салическая, Фризская
6. Великий, Лысый, Мартелл
7. на Каталаунских полях, при Гастингсе, при Пуатье

14 баллов

Ответ:

5.1	476	+
5.2	Ромула	+
5.3	Хлодвиг	+
5.4	Меровингов	+
5.5	Салическая	+
5.6	Мартелл	+
5.7	при Пуатье на Каталаунских полях	+

Критерии оценивания: за каждый верный ответ - 2 балла, всего - 14 баллов.

Задание 6. Греция – колыбель не только цивилизации, но и мифологии. Всё здесь наполнено мифами и легендами, и один из ее основных городов – не исключение. Все верховные боги захотели стать его покровителями, но после общего совета большинство из них отказались от своего намерения. И только два божества продолжали спорить. Решили, город будет назван именем того, кто преподнесет ему лучший подарок.

1. О каком городе идет речь?
2. Какие боги участвовали в споре?
3. Кто выиграл, дал свое имя городу и почему?

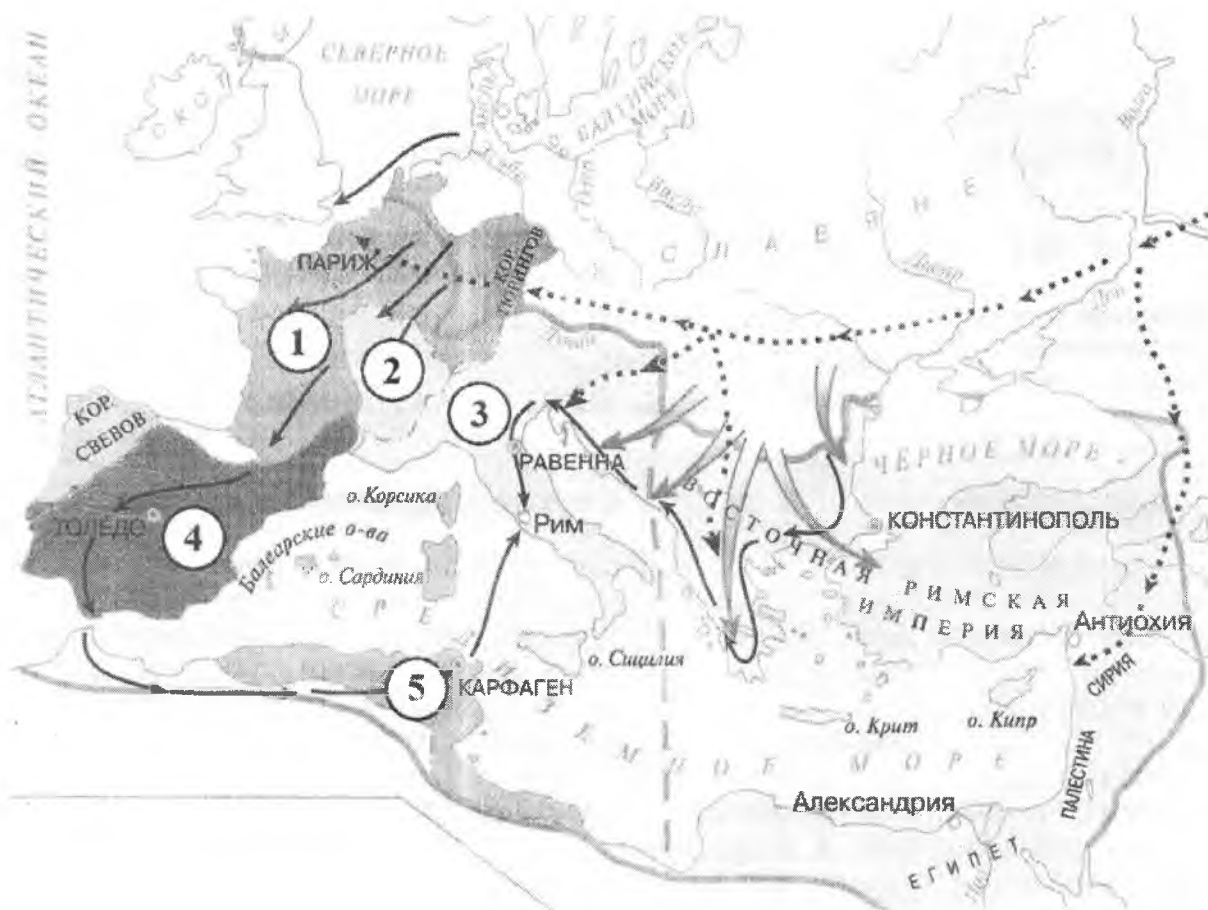
2 балла

Ответ:

6.1	Афины	+
6.2	1. Афродита и Афина и Афродита	—
6.3	Афина Потому что она Бог войны	—

Критерии оценивания: за каждый верный ответ - 2 балла, всего - 6 баллов.

Задание 7. Внимательно рассмотрите карту и выберите верные утверждения из предложенных.



1. На карте обозначено государство, за которым в исторической науке закрепилось название Византия.
2. На карте обозначен город, в котором было заключено соглашение о разделе империи Карла Великого.
3. На карте обозначен город, который был разрушен в результате противоборства с Римской республикой.
4. На карте обозначен остров, где согласно мифу располагался лабиринт, в котором жил Минотавр.
5. Сплошной линией на карте обозначены границы империи Александра Македонского.

Ответ:

7.1	7.2	7.3	7.4	7.5
+	-	+	+	-

10 баллов

Критерии оценивания: за каждый верный ответ - 2 балла, всего - 10 баллов.

Задание 8. Соотнесите имена правителей с историческим фактом.

А) Александр Македонский	1. Организация библиотеки глиняных книг
Б) Ашшурбанапал	2. Создание древнейших законов
В) Константин	3. Строительство самой длинной стены
Г) Октавиан Август	4. Создание новой религии - буддизма
Д) Соломон	5. Строительство храма бога Яхве в Иерусалиме
Е) Хаммурапи	6. Самые крупные завоевания земель соседей Египта
Ж) Царевич Гаутама	7. Военный поход в Индию
З) Цинь Шихуан	8. Разрешение христианам открыто молиться
И) Юлий Цезарь	9. Установление империи
К) Тутмос	10. Захват единоличной власти в Риме

6 баллов

Ответ:

- + + - - + + + +

А	Б	В	Г	Д	Е	Ж	З	И	К
1	7	8	9	2	5	4	3	10	6

Критерии оценивания: за каждый верный ответ - 1 балл, всего - 10 баллов.

Задание 9. [6 баллов] Перед вами памятники, объединенные единой тематикой. Укажите название темы этих памятников. Какой из памятников находится в Сургуте? Укажите цифру.

<p>1</p>	<p>2</p>
<p>3</p>	<p>4</p>

Ответ:

3 балла

<p>1</p>	<p>Тематика: Вторая мировая война Вторая мировая война.</p>
<p>2</p>	<p>В г. Сургуте находится памятник №4</p>

Критерии оценивания: за каждый верный ответ - 3 балла, всего - 6 баллов.

Задание 10. Неотъемлемая часть ремесла историка – расшифровка рукописных памятников прошлых веков. Перед Вами фрагменты русского летописного свода с мужскими и женскими именами. Напишите эти имена в современных русскоязычных вариантах их написания.

МИКИТА ЕЛЕНА ПАСИЛЕН
1 2 П Л ? И Л Е Н

КОНСТАНТИНЪ АНДРЕЙ ИЛИНА
4 5 6

Ответ:

1. Микита +
2. Елена +
3. ~~Пасилен~~ Пасилен -
4. Константин +
5. Андрей +
6. Ирина +

10 баллов

Критерии оценивания: за каждый верный ответ - 2 балла, всего - 12 баллов.

Спасибо за участие!

78 баллов

Всероссийская олимпиада школьников по истории
2022/23 учебный год
Школьный этап

Задания для участников 5-х классов

335.

Инструкция по выполнению работ

Время на выполнение работы – 45 минут.

Максимальное количество баллов – 55.

Уважаемый участник!

При выполнении работы внимательно читайте текст заданий. Содержание ответа вписывайте в отведённые поля, записи ведите чётко и разборчиво.

За каждый правильный ответ Вы можете получить определённое членами жюри количество баллов, но не выше указанной максимальной оценки. Сумма набранных баллов за все решённые вопросы – итог Вашей работы.

Задания считаются выполненными, если Вы вовремя сдали их членам жюри.

Желаем успеха!

Шифр W29-5-10

Задание 1. Из предложенных утверждений выберите одно верное. Ответ внесите в таблицу.

1.1. Главным отличием древнейших людей от животных было:

- 1) умение изготавливать орудия труда;
- 2) умение коллективно охотиться;
- 3) умение подавать сигналы голосом.

1.2. Несколько родовых общин, живущих в одной местности, составляли:

- 1) племя;
- 2) семью;
- 3) государство.

1.3. Древние люди вместе охотились, занимались собирательством, заботились о детях, защищались от чужаков. Все они считались:

- 1) друзьями;
- 2) согражданами;
- 3) сородичами.

1.4. Земледелие возникло:

- 1) примерно 2 млн. лет назад;
- 2) примерно 40 тыс. лет назад;
- 3) примерно 10 тыс. лет назад.

1.5. Выберите из представленного списка мест такое, куда не добрался первобытный человек:

- 1) Австралия;
- 2) Антарктида;
- 3) Южная Америка.



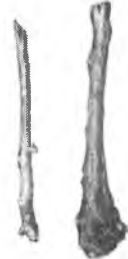







Ответ:

	+	+	+	-	+
1.1	1.2	1.3	1.4	1.5	
1	1	3	1	2	

Критерии оценивания: за каждый верный ответ - 1 балл, всего – 5 баллов.

4

Задание 2. Многие известные нам сегодня орудия труда ведут свою историю с древнейших времён. Рассмотрите представленные изображения и соедините попарно древние орудия труда с их современными «потомками».

Древнее орудие труда	Современный аналог
<p>А</p> 	<p>1</p> 
<p>Б</p> 	<p>2</p> 
<p>В</p> 	<p>3</p> 
<p>Г</p> 	<p>4</p> 
<p>Д</p> 	<p>5</p> 

Ответ: + - - + +

А	Б	В	Г	Д
3	1	5	4	2

Критерии оценивания: за каждый верный ответ - 2 балла, всего – 10 баллов.

6

Задание 3. Верны ли следующие утверждения («да» – «нет»)?

- 1) Наука археология изучает только первобытную эпоху.
- 2) Древнейшие люди объединялись в нации.
- 3) Современное летоисчисление во всех странах ведётся только от Рождества Христова.
- 4) Железо было первым металлом, из которого люди научились делать орудия труда.
- 5) Большинство современных ученых считают, что родиной человечества является Африка.
- 6) В египетской письменности использовались иероглифы.
- 7) Древнейшей мировой религией является буддизм.

Ответ:

+	-	+	+	+	+	+
1	2	3	4	5	6	7
нет	да	нет	нет	да	да	да

5

Критерии оценивания: за каждый верный ответ - 1 балл, за каждый неверный выбор - минус 1 балл, всего - 10 баллов. Если выбрано больше 5 утверждений, то 0 баллов.

Задание 4. Решите хронологические задачи. Вычисления делайте письменно.

- 4.1. В 2022 г. археологи нашли клад, который пролежал в земле 175 лет. В каком году он был зарыт?
- 4.2. Сургут был основан в 1594 г. Подсчитайте, сколько лет исполнилось городу в 2022 году?
- 4.3. По преданию первые Олимпийские игры организовал Геракл в 776 г. до н.э., а в 394 г. н.э. император Феодосий I запретил их как языческие. Сколько лет длилась традиция проведения игр?
- 4.4. Санкт-Петербург был основан в 1703 г. Какой это век?
- 4.5. Куликовская битва произошла в 1380 году. В каком веке праздновалось 500-летие этой битвы?

Ответ:

- 4.1. В 1847 году был зарыт клад. $(2022 - 175 = 1847)$ +
- 4.2. 428 лет исполнилось Сургуту. $(2022 - 1594 = 428)$ +
- 4.3. Традиция проведения игр длилась 382 года. $(776 - 394 = 382)$ -
- 4.4. 18 век. +
- 4.5. В 19 веке. +

6

Критерии оценивания: за каждый верный ответ с вычислением - 2 балла, если ответ верный, но нет вычисления - 1 балл, всего - 10 баллов.

Задание 5. По какому принципу образованы ряды, что их объединяет?

а) рубило-плуг-топор

Ответ: Орудия труда. +

б) собирательство-охота-рыболовство

Ответ: Добывание пищи (Земледелие) +

в) жертва-идол-молитва

Ответ:

г) Хеопс-Туганхамон-Эхнатон

Ответ: Правители. +

Критерии оценивания: за каждый верный ответ - 2 балла, всего - 8 баллов.

5

Задание 6. Внимательно рассмотрите карту и выберите верные суждения относительно представленной карты. Выпишите только номера предложений.



1. На карте обозначена столица Нижнего Египта.
2. Линиями на карте обозначены границы государств древнего мира.
3. На территории Синайского полуострова добывали медь.
4. Основные районы земледелия находились в долинах рек.
5. На острове, обозначенном в Средиземном море, находится один из известных памятников Древнего мира, сохранившийся до наших дней. Памятник изображает мифическое животное с телом льва и головой человека.

Ответ: 1,3,5.

Критерии оценивания: за каждый верный ответ - 1 балл, всего - 3 балла.

2

Задание 7. Перед вами описание древней технологии. Прочитайте и укажите изделие, которое изготавливалось таким образом.

«Стебель разрезается на длинные узкие полоски. Вначале кладётся нижняя схида, во всю длину будущего листа; выдающиеся концы обрезаются. Затем поверх неё кладётся перпендикулярная ей, чем и создаётся «решётка», которая прессуется при помощи пресса, затем отбивается молотом и промазывается клеем: сморщенная, она вновь растягивается и выравнивается молотом. Полученные листы высушиваются на солнце и соединяются между собой так, что лучшие листы склеиваются с подобными им»

- 1) Бумага;
- 2) Папирус;
- 3) Компас;
- 4) Глиняные таблички.

Ответ: 4.

Критерии оценивания: всего - 1 балл.

0

Задание 8. Этого древнегреческого учёного римский политик назовёт «отцом» той науки, вопросы по которой представлены в заданиях настоящей олимпиады. И это наименование древнегреческого учёного не случайно – его перу принадлежит первое подробное изложение минувших событий. Укажите имя этого древнегреческого учёного.

Ответ: Темп 1.

0

Критерии оценивания: всего – 1 балл.

Задание 9. Перед вами список из десяти достопримечательностей. Четыре из них находятся в Сургуте, три – в Москве, а три – в городах за пределами России. В правой колонке напротив названия достопримечательности укажите, в каком городе она находится.

1. Собор Василия Блаженного	В Москве	+
2. Памятник основателям города	В Сургуте	+
3. Мемориал Славы	За пределами России	-
4. Елисейские поля	В Москве	-
5. Памятник Черному лису	В Сургуте	+
6. Парк Победы на Поклонной горе	В Сургуте	-
7. Тауэр	За пределами России	-
8. Красная площадь	В Москве	+
9. Дом купца Клепикова	В Сургуте	+
10. Парфенон	За пределами России	-

Критерии оценивания: за каждый верный ответ - 1 балл, всего – 10 баллов.

5

Задание 10. Перед вами – афиши мультипликационных фильмов, снятых в России в 2004-2010 годы. Рассмотрите их внимательно и выполните предложенные задания.

10.1. Заполните пропуск в предложении.

Основой для создания данных мультфильмов стали народные эпические песни о героях, получившие название героические.

10.2. Выберите верные факты относительно представленных афиш. («да» – «нет»)?

1. На одной из афиш упоминается героиня сказки А.С. Пушкина «Золотой петушок».
2. Судя по представленным афишам, народные песни о героях воспроизведены в мультфильмах практически дословно и максимально достоверно.
3. На одной из афиш упоминается фольклорный герой, отец которого - священник.
4. В названиях представленных афиш прямо или косвенно указывается как минимум на 1 город.
5. Все животные и мифические существа, изображенные на представленных афишах, в сказках были либо положительными, либо нейтральными.
6. Все предметы, изображенные на афишах, могли реально существовать в ту историческую эпоху, когда (согласно народным песням) происходило действие.

Ответ: - - + + + -

1	2	3	4	5	6
нет да	да	да	нет	да	да

Критерии оценивания: за каждый верный ответ - 1 балл, за каждый неверный выбор – минус 1 балл, всего – 4 балла. Если выбрано больше 5 утверждений, то 0 баллов.

0

